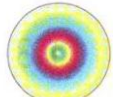






- 1 - 30 tane kalemimiz vardı. Bunları destelere ayırdık. Kaç deste kalemimiz oldu?
A) 2 B) 3 C) 4
- 2 - Bir tabakta bulunan erikler 5 çocuğa paylaştırılıyor. Her birine 5'er erik düşüyor. Geriye 2 tane erik artıyor. Paylaştırılmadan önce, tabakta kaç tane erik vardı?
A) 25 B) 26 C) 27
- 3 - Yarısı 8 tane olan cevizlerin 5 tanesini kardeşime verdim. Kaç tane cevizim kaldı?
A) 11 B) 12 C) 13
- 4 - Kerem 9 yaşındadır. Babası Kerem'den 32 yaş büyüktür. Annesi de babasından 6 yaş küçüktür. Kerem'in annesi kaç yaşındadır?
A) 34 B) 35 C) 36
- 5 - Mert'in 8 tane bilyesi vardır. Berkay'ın bilyeleri, Mert'in bilyelerinin 2 katından 4 tane eksiktir. Berkay'ın kaç tane bilyesi vardır.
A) 12 B) 10 C) 8



- 6 - Bir apartman 6 katlıdır. Her katında 3'er daire olup, son katında 1 daire bulunmaktadır. Bu apartmandaki daire sayısı kaçtır?
A) 18 B) 17 C) 19
- 7 - Bir kalem ve bir silgi için 90 ykr. verdim. Bir silgi 55 ykr. olduğunu göre, bir kalem kaç ykr.'dir?
A) 30 B) 35 C) 40
- 8 - 27, 24, 21, -, -, - örüntüsünde, birbirini takip eden son iki sayı, aşağıdakilerden hangisidir?
A) 18, 15 B) 17, 14 C) 12, 9
- 9 - 37 37 sayıların arasındaki boş kutuya, aşağıdakilerden hangisi yazılmalıdır?
A) büyüktür. B) eşittir. C) küçüktür.
- 10 - Aşağıdaki modellerden hangisinde, köşe bulunmaz?
A)  B)  C) 



- 1 - 36 metre kumaşın yarısı satıldı. Geriye kalan kumaştan 6 tane elbise dikildi. Bir elbise için kaç metre kumaş kullanılmıştır?
A) 2 B) 3 C) 4
- 2 - 4 onluk 8 birlikten oluşan sayı, 2 onluk 9 birlikten oluşan sayıdan ne kadar fazladır?
A) 1 onluk 9 birlik B) 1 onluk C) 1 onluk 8 birlik
- 3 - Aşağıdakilerden hangisi kilogram ile ölçülür?
A) süt B) elma C) kumaş
- 4 - Bir satıcı, içinde 40 kilogram pirinç bulunan bir torba pirinci, ikişer kilogramlık poşetlere doldurmak istiyor. Bunun için kaç tane poşete ihtiyacı vardır?
A) 16 B) 18 C) 20
- 5 - "25+17" doğal sayılarının toplamı, hangi onluğa daha yakındır?
A) 50 B) 40 C) 30
- 6 - Bir tencere, 7 bardak su almaktadır. Aynı özellikteki 3 tencere, kaç bardak su alır?
A) 21 B) 24 C) 27

- 7 - Bir sınıftaki öğrenciler, üçerli olarak 5 grup oluşturduğunda, 2 öğrenci açıkta kalıyor. Bu sınıfta kaç öğrenci vardır?
A) 17 B) 19 C) 21
- 8 - Sevda, 5 yıl önce 3 yaşındaydı. Sevda, 5 yıl sonra kaç yaşında olacak?
A) 13 B) 14 C) 15
- 9 - Bir satıcının 52 tane karpuzu vardı. Birinci gün 19 tane, ikinci gün 30 tane karpuz sattı. Satıcının satamadığı karpuzlar kaç tanedir?
A) 2 B) 3 C) 4
- 10 - Fındıklarımın 7 tanesini arkadaşşıma verince, fındıklarımın eşit oluyor. Benim 20 tane fındığım olduğuna göre, ikimin fındıklarının toplamı kaçtır?
A) 34 B) 30 C) 26
- 11 - Bir paketteki balonlar 4 çocuğa eşit olarak paylaştırılıyor. Her birine 5 balon düşüyor. Geriye 2 balon artıyor. Paketten çıkan balonlar kaç taneydi?
A) 22 B) 30 C) 26
- 12 - "****** " Yandaki örüntüyü koruyan yeni bir örüntü, aşağıdakilerden hangisidir?
A) nar, nar, nar, dut, nar, nar, nar, dut
B) nar, nar, dut, dut, nar, nar, dut, dut
C) nar, dut, nar, dut, nar, dut, nar, dut